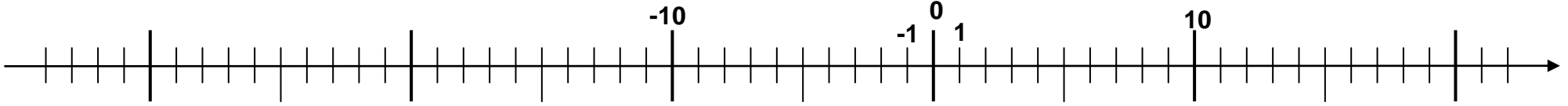
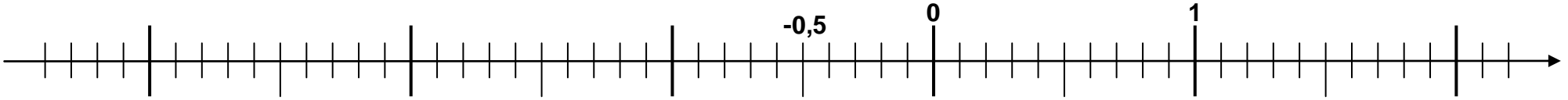


الأعداد العشرية النسبية

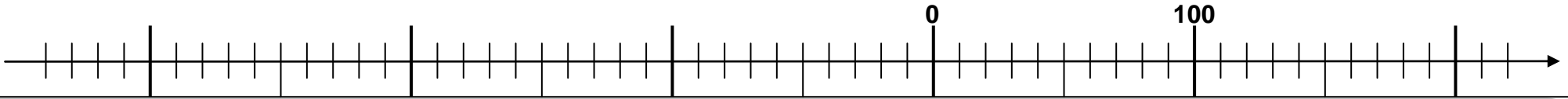
(1) أتم تدرّيج المستقيم المدرج أسفله:



(2) نفس الشيء كالتمرين السابق أتم تدرّيج المستقيم المدرج في الأسفل



(3) مثل على المستقيم المدرج أسفله الأعداد التالية: -290 ; -70 ; 90 ; -90 ; -10 ; 110 ; -110 ; -170 ; 190 ; -200 .



(4) ما هي أفاصيل النقط أسفله على المحور المدرج:

